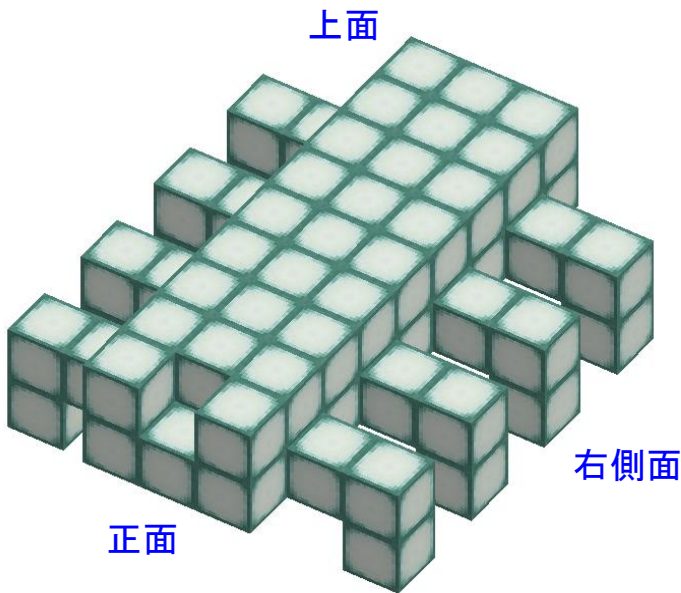
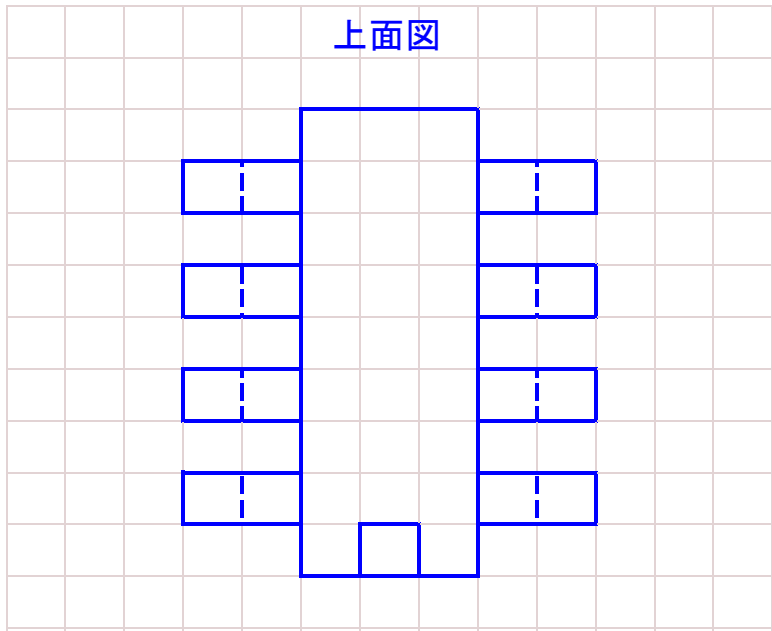


なまえ	
-----	--



作図例

上面図

上面

正面

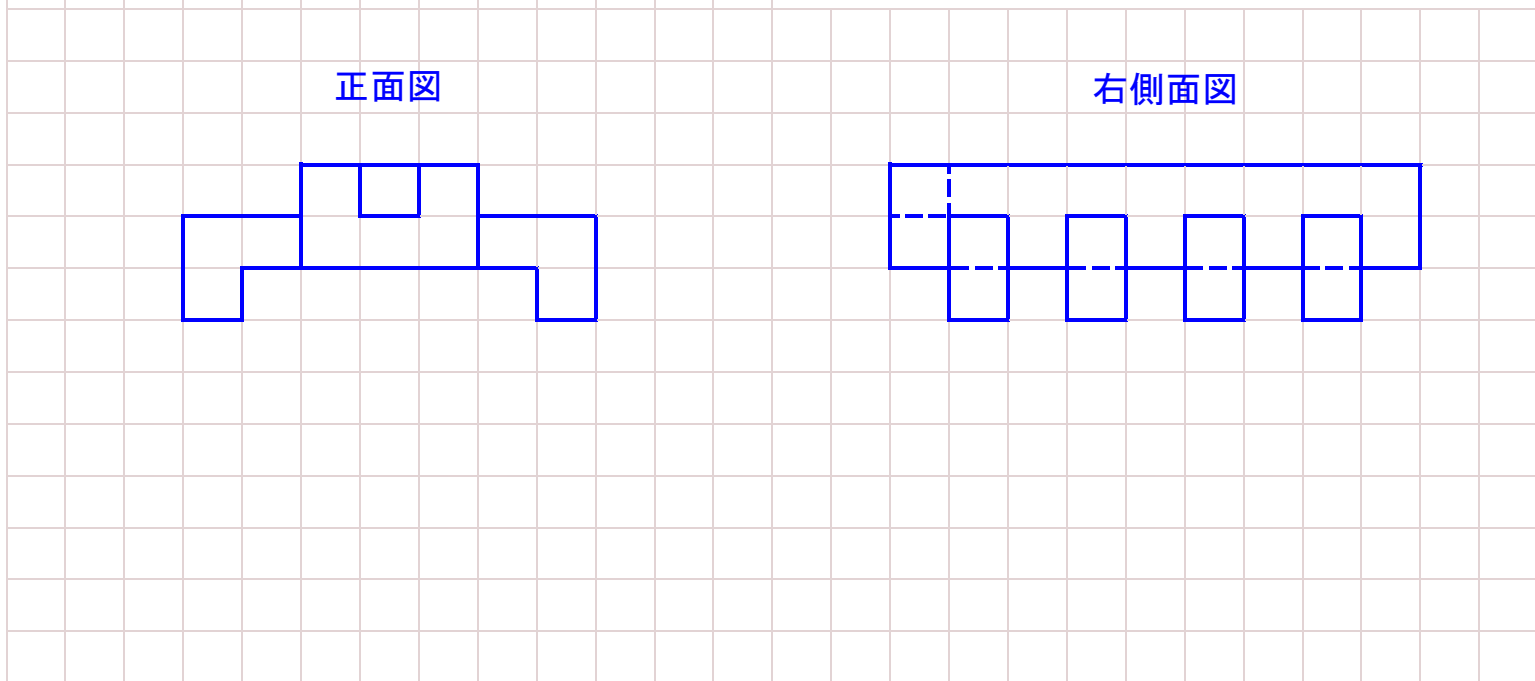
右側面

マス目の模様もようをかかない。

正面図

右側面図

見えない隠線(いんせん)は点線で



加点	□ 位置	□ 外形	□ 実線	□ 隠線	□ 精度
評点	/ 5 点				
日付	/		/		
採点者			済印	記録 発行	

No.	問題	学年	解答	採点	先生コメント
1	バカラーの首を長くすると、歩き方はどう変わるか。 記号で答えよ。 A. 重心(じゅうしん)が高くなるので、左右に大きくゆれて、安定しなくなる B. 身長(しんちょう)が高くなるので、速(はや)くなる C. 重くなるので、どっしり安定するようになる D. 速(とお)くまでよく見えるようになる	小2～ めやす	A. B. は、関係ない。 C. は、低いところを重くすると安定するが、高い所を重くすると不安定になるので×。 D. は、歩き方と関係ない。	/1	
2	ロッド3アナの端(はし)の穴(あな)をシャフトで回しているが、ロッド3アナの真(ま)ん中の穴にシャフトを通すと、どう変わるか。 記号で答えよ。 A. ロッド3アナがシャフトにひっかかって回らなくなる B. 前に行ったり、後ろに行ったりして、進(すす)まなくなる C. 足の動きが小さくなるので、遅(おそ)くなる D. 足の動きが大きくなるので、速(はや)くなる	小2～ めやす	C. (動きが半分になる。) A. は、ひっかかることはないので×。 B. は、前後に動くことはないので×。 D. は、逆(ぎやく)。	/1	
3	前足のタイヤSはゴムをはめたまま、後ろ足のタイヤLはゴムを外(はず)してホイールだけにしたのはなぜか。 「すべり」または「すべる」という言葉を使って説明せよ。	小2～ めやす	前足は、片足(かたあし)ずつ浮(う)いて、地面に着(つ)いた方の足でできるため、すべりにくいようにしたいが、 後ろ足は、持ち上がりずらに前後に動き、地面をこする時が多いので、すべりやすくないから。	/3	

採点者	計	済印	日付
	/5	記録	/ /
		発行	