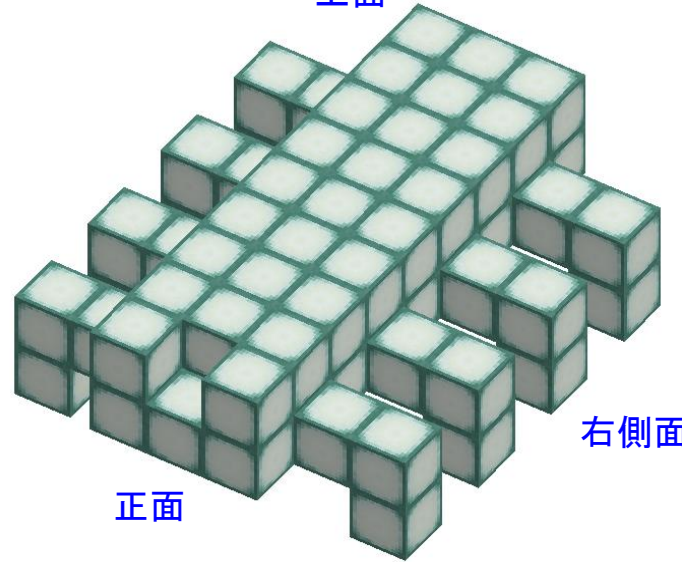


なまえ

上面図



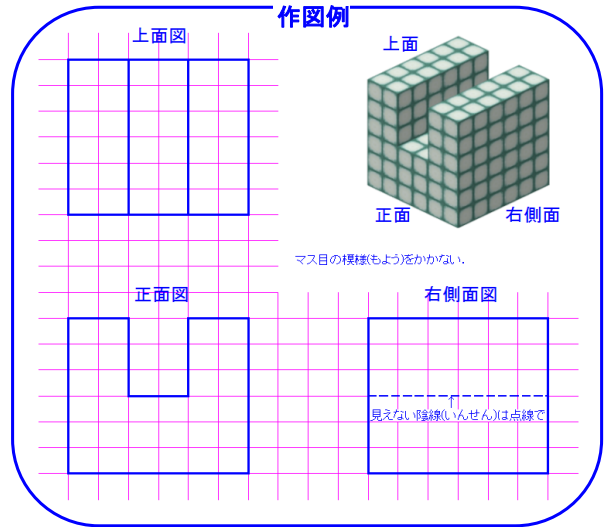
上面



正面

右側面


作図例



正面図



右側面図



加点	<input type="checkbox"/> 位置	<input type="checkbox"/> 外形	<input type="checkbox"/> 実線	<input type="checkbox"/> 隠線	<input type="checkbox"/> 精度
評点	/ 5 点				
日付	/		/		
採点者			済印	記録 発行	

ベーシックコースN

馬型ロボット「バカラー」 課題

No.	問 題	学 年	解 答	採点	先生コメント
1	バカラーの首を長くすると、歩き方はどう変わるか。 記号で答えよ。 A. 重心(じゅうしん)が高くなるので、左右に大きくゆれて、安定しなくなる B. 身長(しんちょう)が高くなるので、速(はや)くなる C. 重くなるので、どっしり安定するようになる D. 速(とお)くまでよく見えるようになる	小2～ めやす		/1	
2	ロッド3アナの端(はし)の穴(あな)をシャフトで回しているが、ロッド3アナの真(ま)ん中の穴にシャフトを通すと、どう変わるか。 記号で答えよ。 A. ロッド3アナがシャフトにひっかかって回らなくなる B. 前に行ったり、後ろに行ったりして、進(すす)まなくなる C. 足の動きが小さくなるので、遅(おそ)くなる D. 足の動きが大きくなるので、速(はや)くなる	小2～ めやす		/1	
3	前足のタイヤSはゴムをはめたまま、後ろ足のタイヤLはゴムを外(はず)してホイールだけにしたのはなぜか。 「すべり」または「すべる」という言葉を使って説明せよ。	小2～ めやす		/3	

採点者	計	済印	日付
	/5	記録 発行	/ /