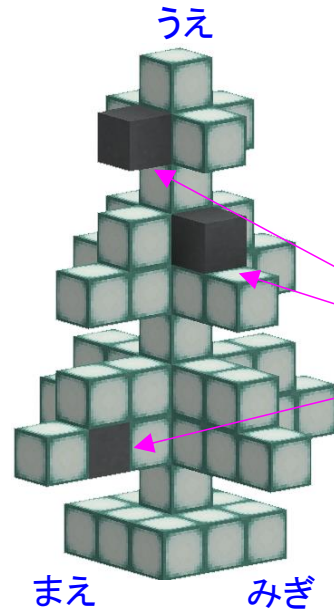
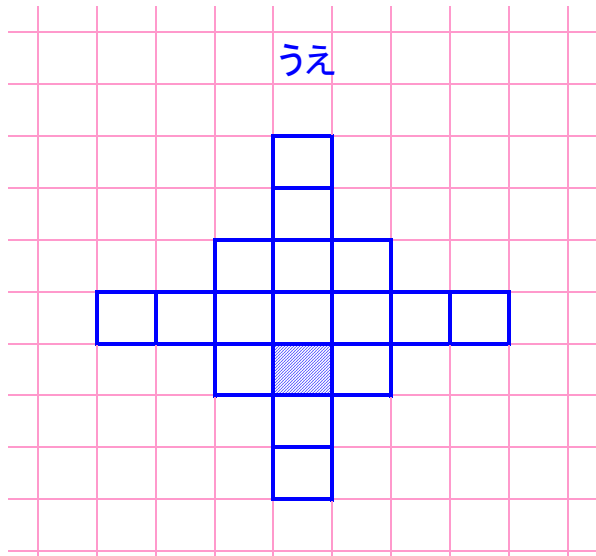


なまえ	
-----	--



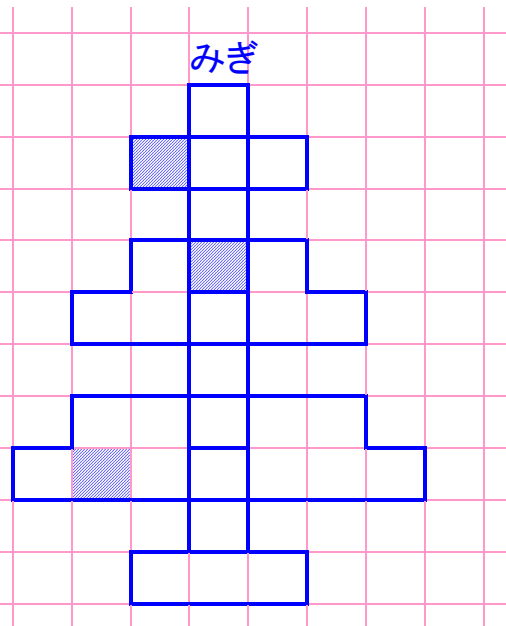
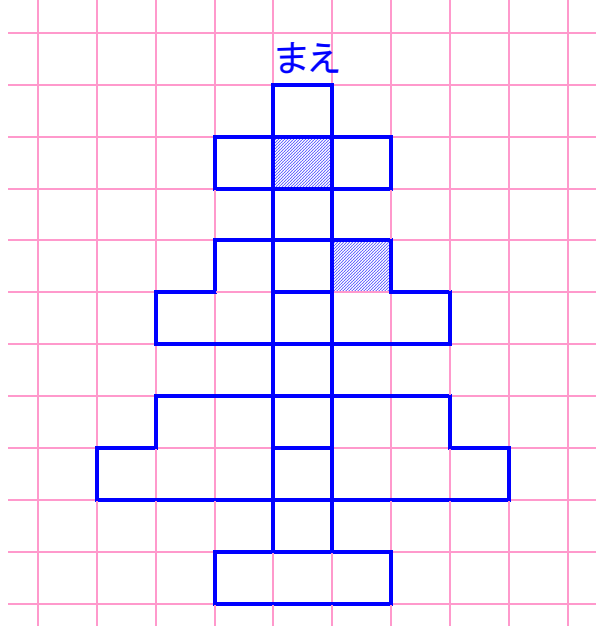
【もんだい1】

くろい3ブロックをぬろう。
(みえないときは、ぬらない)

【もんだい2】

ぜんぶでブロックが
いくつあるかな？
(くろブロック3つもかぞえる)

54 こ
49～54どれも正解



やりかた

【もんだい1】
このブロックをぬろう。

【もんだい2】
ぜんぶでブロックがいくつあるかな？

10 こ

加點	<input type="checkbox"/> うえ	<input type="checkbox"/> まえ	<input type="checkbox"/> みぎ	<input type="checkbox"/> ±5%	<input type="checkbox"/> かず
評點	/ 5 點				
日付	/ /				
採點者				済印	記録 発行