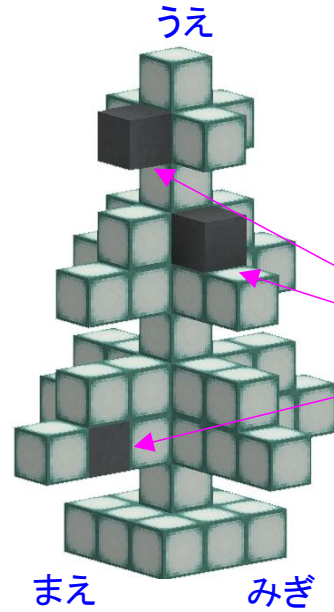
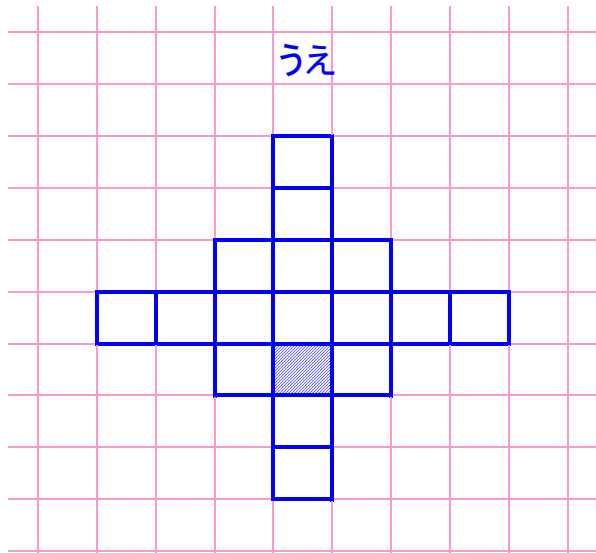


なまえ	
-----	--



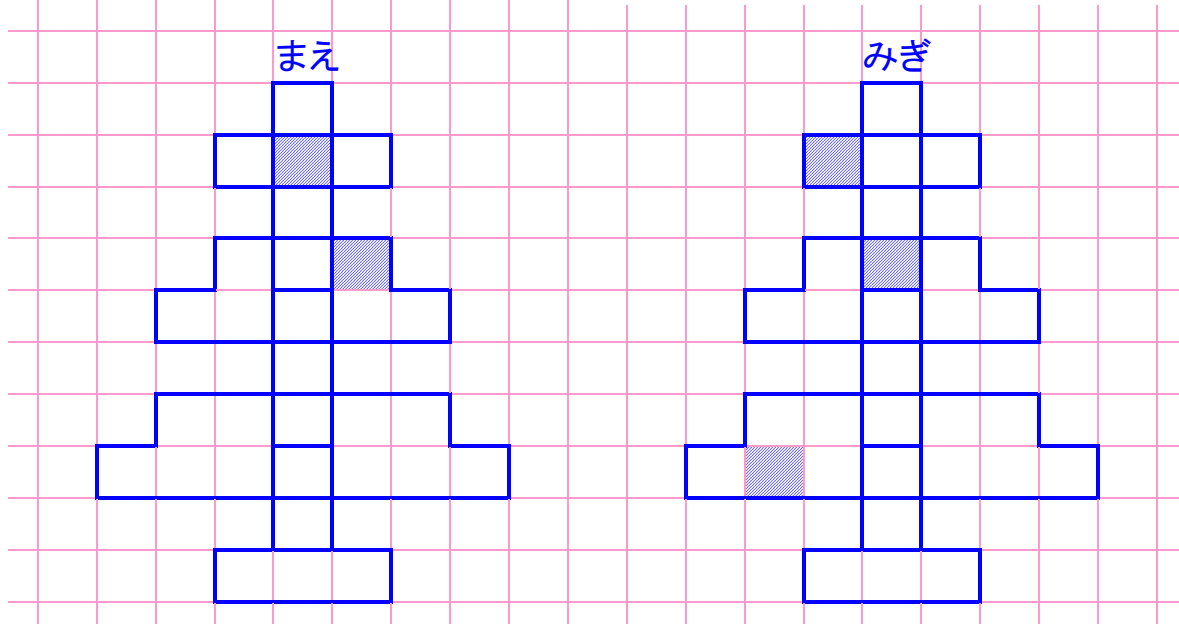
【もんだい1】

くろい3ブロックをぬろう。
(みえないときは、ぬらない)

【もんだい2】

ぜんぶでブロックが
いくつあるかな？
(くろブロック3つもかぞえる)

54 こ
49～54どれも正解



やりかた

【もんだい1】
このブロックをぬろう。

【もんだい2】
ぜんぶでブロックがいくつあるかな？

10 こ

加	点	<input type="checkbox"/>	<input type="checkbox"/>	<input type="checkbox"/>	<input type="checkbox"/>	<input type="checkbox"/>
		うえ	まえ	みぎ	±5%	かず
評	点	/ 5 点				
日	付	/ /				
採	点者				済印	記録 発行