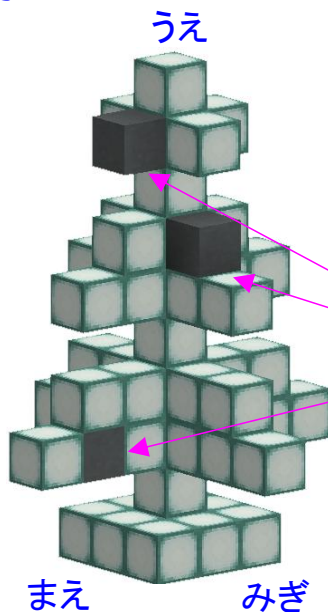
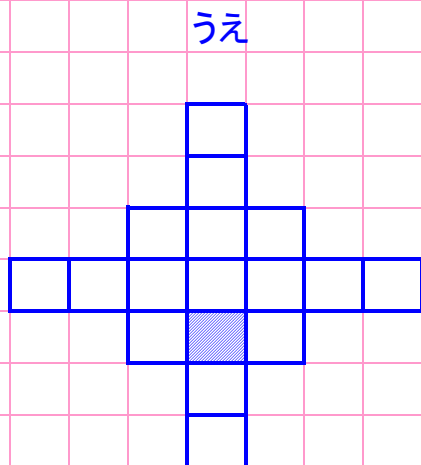


なまえ



【もんだい1】

くろい3ブロックをぬろう。
(みえないときは、ぬらない)

【もんだい2】

ぜんぶでブロックが
いくつあるかな？
(くろブロック3つもかぞえる)

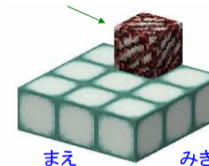
54 こ
49～54どれも正解

やりかた

うえ


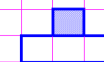
【もんだい1】
このブロックをぬろう。

うえ



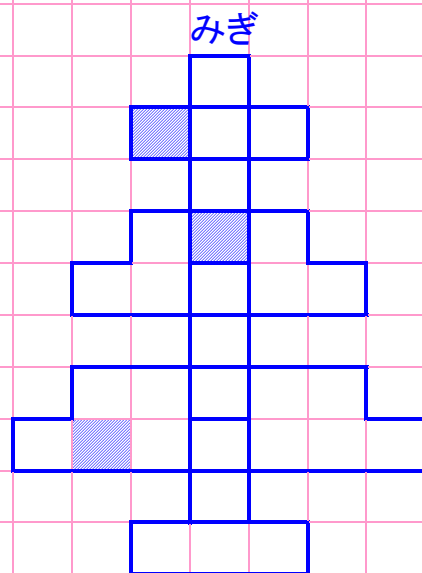
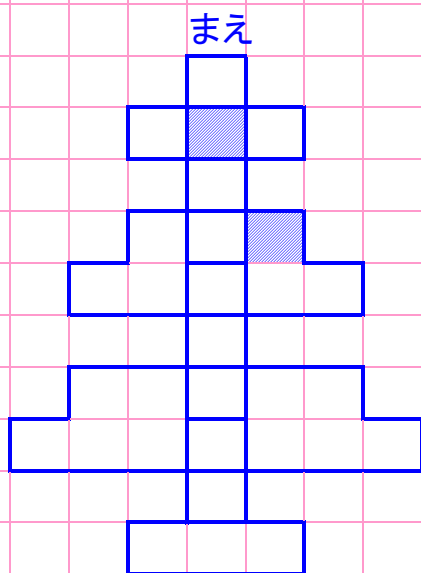
まえ

みぎ



【もんだい2】
ぜんぶでブロックがいくつあるかな？

10 こ



加	点	<input type="checkbox"/>	<input type="checkbox"/>	<input type="checkbox"/>	<input type="checkbox"/>	<input type="checkbox"/>
		うえ	まえ	みぎ	±5%	かず
評	点	/5 点				
日	付	/ /				
採	点者	済 印		記録 発行		