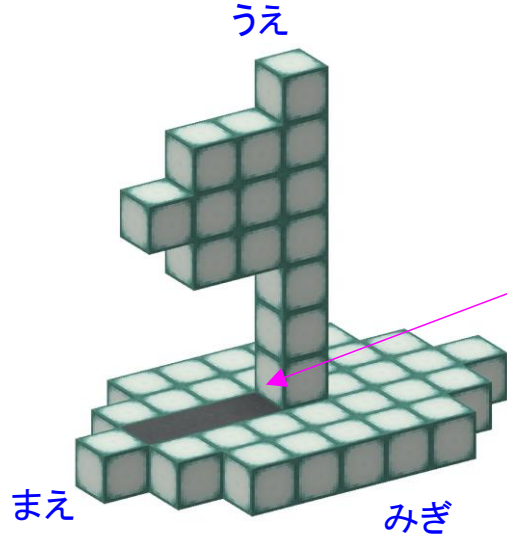
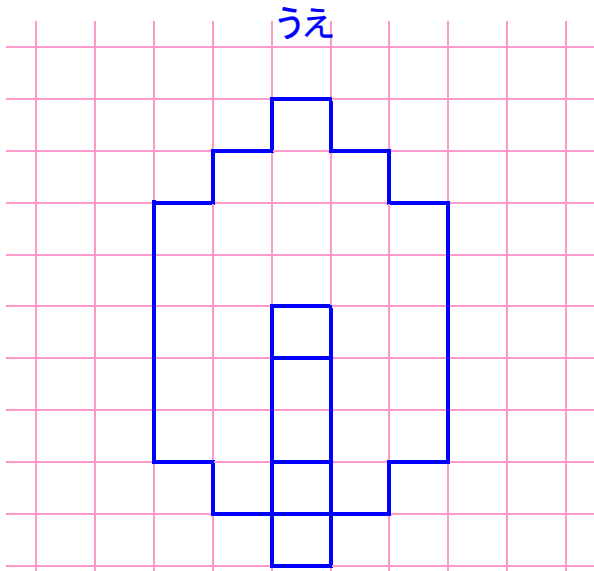


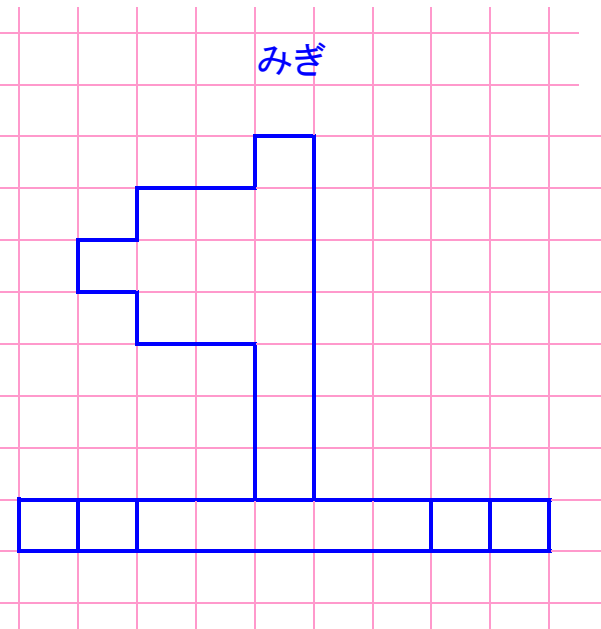
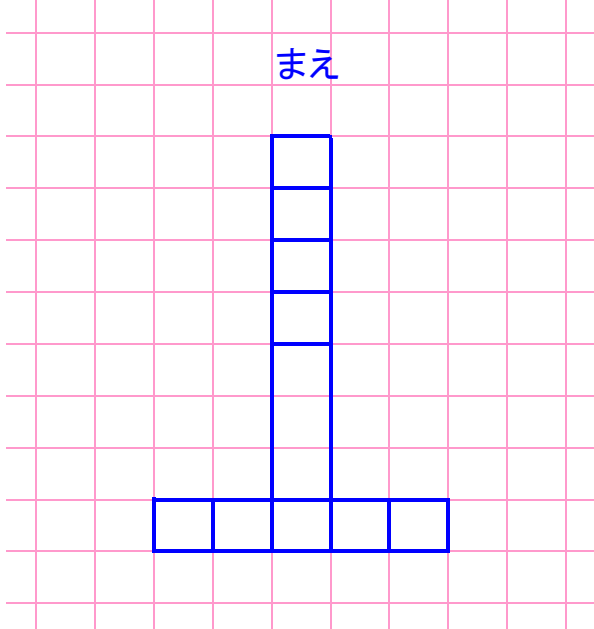
| | |
|-----|--|
| なまえ | |
|-----|--|



【もんだい1】
くろい3ブロックをぬろう。
(みえないときは、ぬらない)

【もんだい2】
ぜんぶでブロックが
いくつあるかな？
(くろブロック3つもかぞえる)

| | |
|----|---|
| 47 | こ |
|----|---|



やりかた

うえ

まえ

【もんだい1】
このブロックをぬろう。

うえ
まえ
みぎ

うえ

まえ

うえ

みぎ

【もんだい2】
ぜんぶでブロックがいくつあるかな？ 10 こ

| | | | | | |
|-----|-------|----|----|-----|----------|
| 加点 | □ | □ | □ | □ | □ |
| | うえ | まえ | みぎ | ±5% | かず |
| 評点 | / 5 点 | | | | |
| 日付 | / / | | | | |
| 採点者 | | | | 済印 | 記録 発行 |